

# Mehr und weniger

## Aufgabe:

In welchem Kästchen befindet sich

- a) mehr Spielzeug?
- b) weniger Spielzeug?

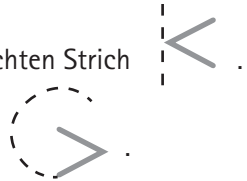


Übung zur Klassifikation  
(Mengen vergleichen)

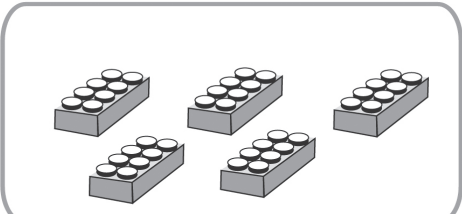
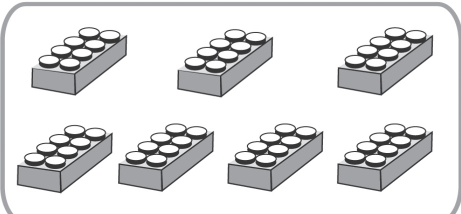
Trage das richtige Zeichen ein:  $<$  = KLEINER       $>$  = GRÖßER

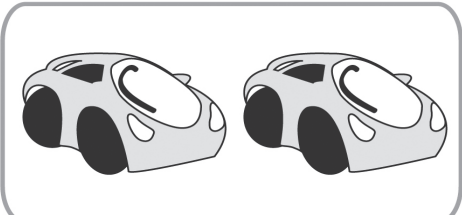

### TIPP/ESELSBRÜCKE:

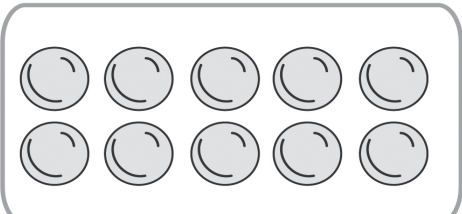
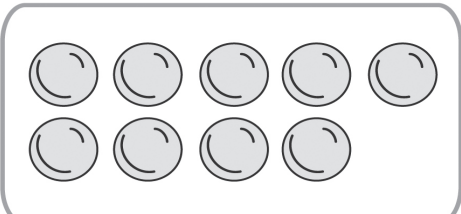
- **Mache an der geschlossenen Seite des KLEINER-Zeichens einen senkrechten Strich**  
Es entsteht der Buchstabe **K** (für KLEINER).
- **Mache um die geöffnete Seite des GRÖßER-Zeichens einen Halbkreis**  
Es entsteht (fast) der Buchstabe **G** (für GRÖßER).





	$<$		$>$		$>$	
--	-----	--	-----	---	-----	--

	$<$		$>$
---	-----	--	-----

	$\bigcirc$		$\bigcirc$
---	------------	--	------------

	$\bigcirc$		$\bigcirc$
---	------------	--	------------

	$\bigcirc$		$\bigcirc$
---	------------	--	------------